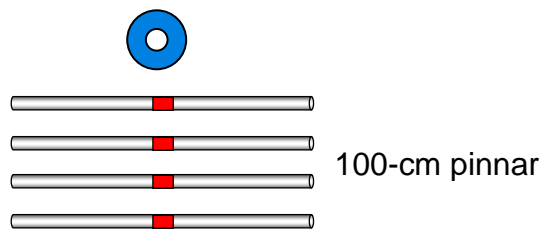
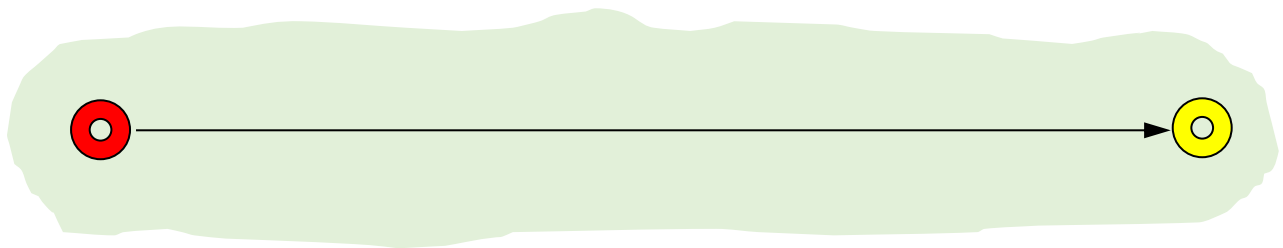


# Avståndet 3

GRÖN

## Uppgift:

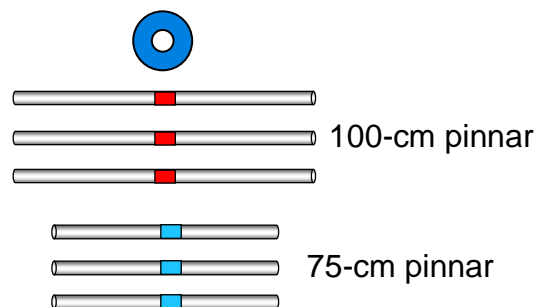
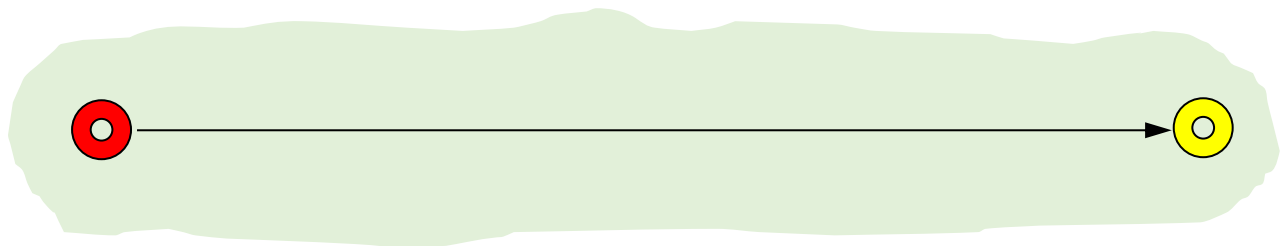
1. **UPPSKATTA** först hur lång sträcka man kommer om man lägger alla pinnarna i rad efter varandra. Pinnarna ska sitta ihop och läggas från den röda konen i en rak linje mot den gula konen. Ni får försöka beräkna sträckan genom att stega mellan konerna. Lagg den blå konen dit ni uppskattar att pinnarna når.
2. **Lägg ut** pinnarna. Hur stämde det med det ni uppskattade?



BLÅ

**Uppgift:**

1. **UPPSKATTA** först hur lång sträcka man kommer om man lägger alla pinnarna i rad efter varandra. Pinnarna ska sitta ihop och läggas från den röda konen i en rak linje mot den gula konen. Ni får försöka beräkna sträckan genom att stega mellan konerna. Lägg den blå konen dit ni uppskattar att pinnarna når.
2. **Lägg ut** pinnarna. Hur stämde det med det ni uppskattade?



RÖD

**Uppgift:**

1. **UPPSKATTA** först hur lång sträcka man kommer om man lägger alla pinnarna i rad efter varandra. Pinnarna ska sitta ihop och läggas från den röda konen i en rak linje mot den gula konen. Ni får försöka beräkna sträckan genom att stega mellan konerna. Lägg den blå konen dit ni uppskattar att pinnarna når.
2. **Lägg ut** pinnarna. Hur stämde det med det ni uppskattade?

